

	<p align="center">Délégation Académique à l'Action Culturelle</p> <p align="center">7 place Bir-Hakeim BP 1065 38021 Grenoble cedex</p>		<p align="center">Archives et Patrimoine historique de Romans Service éducatif</p> <p align="center">3 rue des Clercs 26100 Romans/Isère tél. : 04.75.45.89.89 Archives@ville-romans26.fr</p>
--	--	---	--

La Croissance urbaine à Romans /Isère du Moyen- Age à nos jours

séquence testée par une classe de CE 2- Mars 2009
Mme Jung - Ecole Primaire Gaillard à Romans/Isère

Objectif pédagogique :

- Comprendre comment la ville de Romans s'est étendue à partir du noyau historique.
- Identifier des formes d'habitats
- Observer la morphologie urbaine
- Compléter une frise chronologique sur un thème de proximité
- Réaliser un schéma légendé

Organisation de la séquence :

- Visite dans Romans avec un questionnaire 1 h 30
- Compléter la frise et le schéma 1 h


Lionel FERRIERE: enseignant – Lionel.Ferriere@ac-grenoble.fr
Laurent JACQUOT: enseignant – Laurent.Jacquot@ac-grenoble.fr


Reproduction gratuite autorisée à usage pédagogique.
Mentionner la source pour les expositions et mises en ligne éducatives.
Autre usage : demander l'autorisation au Service Educatif de la DAAC ou à la DAAC (Rectorat de Grenoble)



Comment la ville de Romans a grandi de sa naissance à aujourd'hui ?

A- Visite dans Romans : il faut écouter et rayer la mauvaise réponse ; parfois écrire un mot.




Rue Jacquemart :

	<p>Les rues sont étroites ou larges ?</p> <p>Combien d'étages ont les immeubles ? 2 ou 3 6 ou 7</p> <p>Quelles activités as-tu remarqué dans ces rues en bas des immeubles ? </p> <p>A quoi servent les étages ?.....</p>
--	---

	<p>Au bout de la rue, le bâtiment important c'est :</p> <ul style="list-style-type: none"> - le restaurant Mac Donald - la gare
--	---

<p>Ce bâtiment s'appelle :</p> <ul style="list-style-type: none"> - la tour Guignol - la tour Jacquemart 	<p>Entoure le bâtiment qui a disparu.</p>	
		<p>C'était :</p> <ul style="list-style-type: none"> - une prison - une école - un supermarché

Côte Jacquemart

		
<p>12^e – début 13^e architecture «romane» architecture «gothique»</p>	<p>fin 13^e - 14^e architecture «romane» architecture «gothique»</p>	<p>15^e – 16^e architecture «rococo» architecture «renaissance»</p>

Comment sont les rues ?

Comment sont les bâtiments ?.....

Quelles activités as-tu remarqué dans ces rues ?

A quoi servent les étages ?.....



Ce bâtiment s'appelle : la collégiale Saint Barnard
le stade de France

A coté : c'est le pont Dicheri ?
c'est le pont vieux ?



Au Moyen Age c'était le quartier des tanneurs
ou des poissonniers ?



Cet immeuble date du Moyen Age ?
ou d'aujourd'hui ?

Il a 2 ou 3 étages ? plus de 6 étages ?


Schéma pour rassembler ce qu'on a observé

Période de construction

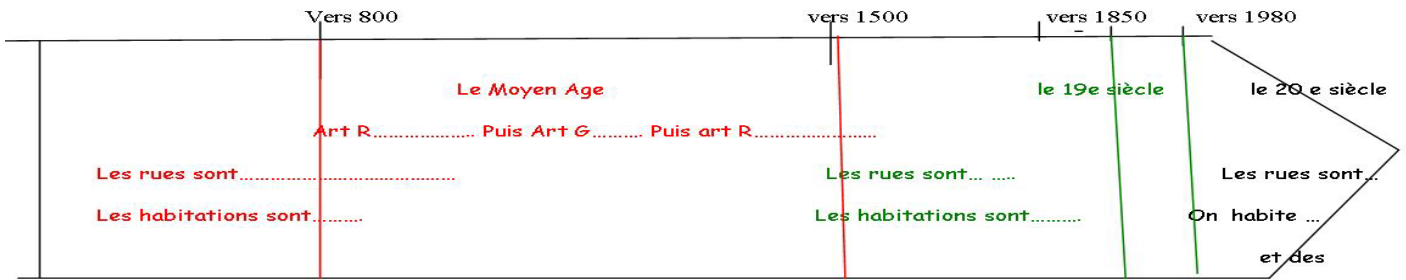
Moyen Age

XIXe

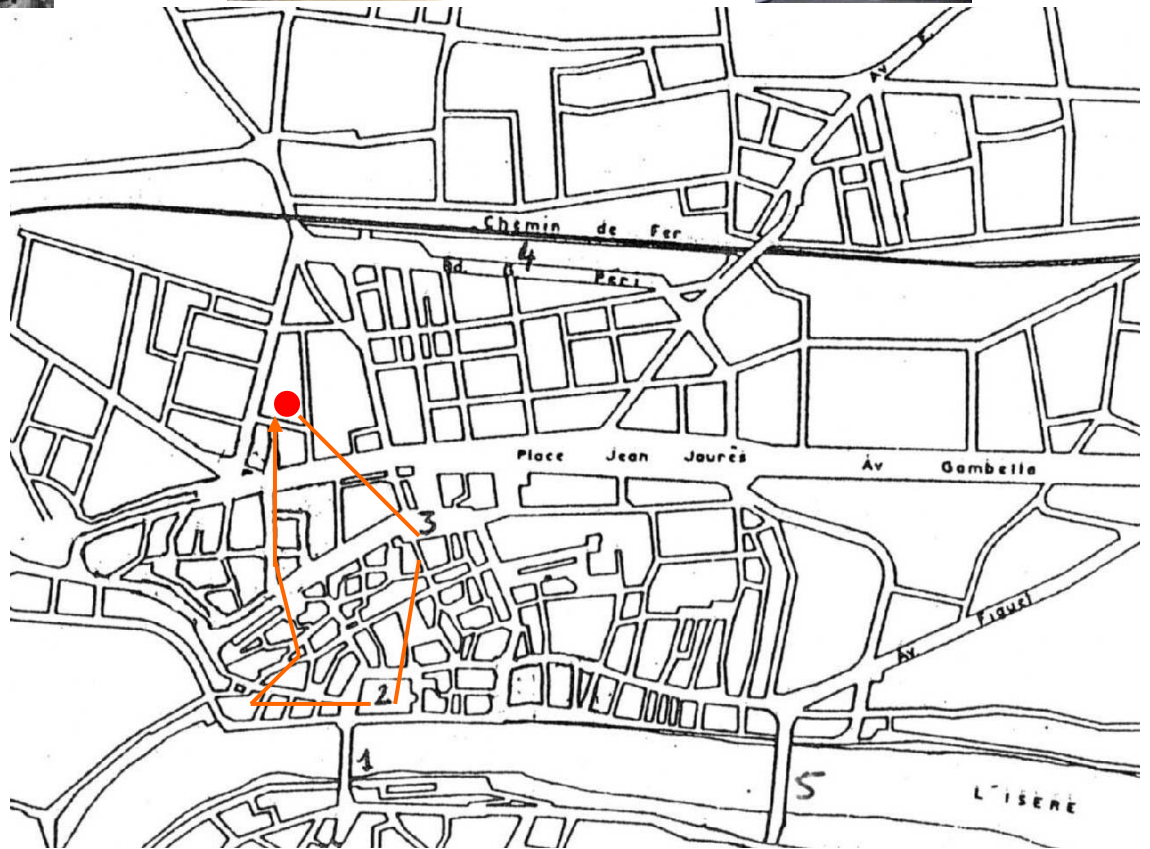
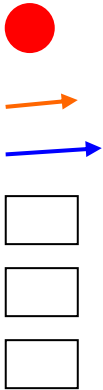
XXe



B- Dessiner l'histoire !



- 1- le pont vieux
- 2- la collégiale
- 3- la Tour Jacquemart
- 4- la gare
- 5- le pont neuf



La Ville de Romans a été construite au M..... autour de la collégiale Saint Barnard et du Pont vieux. Les rues sont et Les habitants se regroupent par comme les tanneurs. Pour se défendre, la ville est entourée d'un (rempart) et il y a des (Tour Jacquemart).

Au 19^e siècle, on construit de nombreuses..... autour de la gare et de petits i..... Les rues sont et C'est le quartier de l'école Gaillard. Les enfants travaillent à partir de l'âge deans. Les femmes font la lessive dans la rue. On détruit les vieux bâtiments comme la prison.

Les nouvelles rues sont droites et larges pour laisser passer les Grâce au qui passe sur le pont neuf, on peut facilement circuler avec les villages des alentours. Comme pour la Tour Eiffel, on utilise beaucoup le dans les nouvelles constructions.

Au 20^e siècle, on construit des et des petites pour loger la population qui a beaucoup augmentée. La ville est faite pour les

(Moyen-âge- tordues, sales, mur, portes, étroites, métiers, usines, droites, 12, fer, immeubles, train, voitures, maisons, immeubles, larges, charrettes)